















**PS** : Sur chaque ligne, compte le nombre de formes géométriques que tu vois et entoure le nombre qui correspond à la quantité.

|   |         |
|---|---------|
|    | 1 2 3 4 |
|    | 1 2 3 4 |
|    | 1 2 3 4 |
|  | 1 2 3 4 |
|  | 1 2 3 4 |
|  | 1 2 3 4 |
|  | 1 2 3 4 |

**MS** : Sur chaque ligne, compte le nombre de formes géométriques que tu vois et entoure le nombre qui correspond à la quantité.

|   |             |
|---|-------------|
|    | 1 2 3 4 5 6 |
|    | 1 2 3 4 5 6 |
|    | 1 2 3 4 5 6 |
|   | 1 2 3 4 5 6 |
|  | 1 2 3 4 5 6 |
|  | 1 2 3 4 5 6 |
|  | 1 2 3 4 5 6 |