



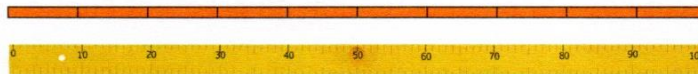
Le décimètre

Léa a mesuré la hauteur de son fichier et elle trouve « 3 ».
 Quelle mesure a-t-elle reportée 3 fois ?
 un centimètre ?
 un décimètre ?
 un mètre ?



$$10 \text{ cm} = 1 \text{ dm}$$

1 décimètre, c'est une dizaine de centimètres.



$$10 \text{ dm} = 1 \text{ m}$$

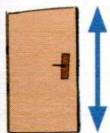
1 mètre, c'est une dizaine de décimètres.

Complète avec l'unité de mesure qui convient :

centimètres, décimètres ou mètres



Un timbre mesure 2



Une porte mesure 2



Un livre mesure 2

On mesure la longueur des objets en les comparant à la longueur d'un centimètre, d'un décimètre ou d'un mètre : le centimètre, le décimètre et le mètre sont les unités des mesures de longueur.